

嘉義縣立太保國民中學109學年度第二學期第二次段考社會科試題卷

命題教師:吳秀娟

一年 班 座號： 姓名：

一、單一選擇題(每題2分)

1.國民政府遷臺初期，臺灣海峽兩岸的情勢依然緊張，直到哪一事件爆發之後，美國宣布派遣「第七艦隊」協防臺灣，臺灣的情勢乃日漸安定？

- (A)韓戰 (B)八二三炮戰
(C)國共內戰 (D)古寧頭戰役。

2.附圖是日治時期的宣傳海報「南無警察大菩薩圖」，從此宣傳海報可推測出當時的社會背景，下列敘述何者正確？



- (A)當時警察的工作內容廣泛，幾乎無所不包
(B)當時的警察是慈眉善目的菩薩
(C)當時警察的職權可比擬總督
(D)警察成為當時臺灣最高統治者。

3.嘉義市圓環附近豎立著一尊雕像，這是1931年代表臺灣參加日本甲子園棒球比賽的嘉義農林學校當家投手吳明捷，也是電影《KANO》的主角。請問：嘉義農林學校在日本治臺時期，屬於哪一種類型的教育制度？

- (A)初等教育 (B)中等教育
(C)高等教育 (D)義務教育。

4.

資料一：臺灣鄉間的諺語：第一愁，種甘蔗予會社磅（稱重量）。

資料二：1905年6月臺灣總督府規定：為制止各製糖工廠間的原料爭奪，避免擾亂蔗價，各蔗作區畫定一定範圍的區域。此區域內的甘蔗未經許可，不得運出區域之外，或供作砂糖以外成品的製作原料。

根據以上資料，下列敘述何者適當？

- (A)保障臺灣蔗農，使蔗農有固定買主與穩定的銷路
(B)政府為照顧臺人生活，引進製糖業，糖從此成為重要輸出物資
(C)保障新式糖廠，使其降低收購甘蔗原料的價格
(D)使臺灣舊糖廠在政府補助下轉型為新式糖廠，奠定工業的基礎。

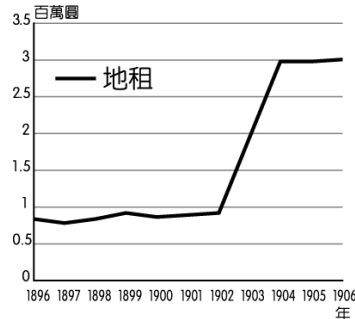
5.下列有關臺灣北部區域和東部區域之間的區域特色比較，何者正確？

	醫院分布	平均所得	教育程度	人口密度
北部區域	少	高	低	低
東部區域	多	低	高	高

- (A)醫院分布 (B)平均所得

(C)教育程度 (D)人口密度。

6.附圖為1896~1906年臺灣總督府田賦收入圖。請問：圖中收入突然大幅提升的原因為下列何者？



- (A)實施專賣政策 (B)實施理蕃政策
(C)實施林野調查 (D)實施土地調查。

7.歷史老師將戰後臺灣重要事件的漫畫(如附圖)貼在黑板上，要求同學們按時間順序加以排列。請問：正確的順序應該是下列何者？



- (A)甲乙丙丁 (B)甲丙丁乙
(C)乙甲丙丁 (D)丁乙甲丙。

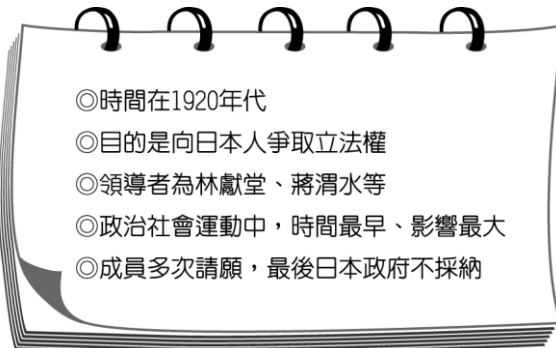
8.日本治臺時期，在「皇民化運動」之下，對當時臺灣社會有哪些影響？(甲)臺灣男子被徵調至南洋當軍伕；(乙)臺灣民眾一律改用中國的語言、姓氏；(丙)臺灣民眾被教育要對日本天皇效忠；(丁)取消小學校、公學校的區別，一律稱為「小學校」。

- (A)甲乙 (B)丙丁 (C)甲丙 (D)乙丁。

9.宜蘭自從蔣渭水高速公路完工後，因為便捷的交通，吸引許多人前往度假，為當地觀光業的發展帶來龐大的收益。請問：該縣市位於臺灣哪一個區域中？

- (A)北部區域 (B)中部區域
(C)南部區域 (D)東部區域。

10.瑋君在看一本介紹日本治臺時期政治社會運動的書籍，將書籍重點整理如附圖。請問：這本書介紹的內容主要為下列何者？



- (A)臺灣文化協會 (B)臺灣議會設置請願運動
(C)臺灣民眾黨 (D)臺灣地方自治聯盟。

11.「日本治臺時期，由於在臺升學不易，臺人有志青年踴躍前往日本留學，至1945年為止，留日學生共達二十萬人。」上述說明日本殖民統治時期臺灣教育的何種現象？

- (A)崇拜日本的心態
(B)總督府鼓勵臺人子弟赴日習醫，故人數最多
(C)總督府以「國民」看待臺人，給予相同的教育機會
(D)總督府的差別待遇，使臺人子弟未能享受公平的教育機會。

12.日本治臺時期，總督府曾針對臺灣社會的「陋習」進行有計畫的革除，唯獨「鴉片」一項並未在當時的臺灣社會禁絕，這是因為當時總督府對鴉片採取什麼措施？

- (A)收歸政府專賣 (B)鼓勵人民種植
(C)開放外國進口 (D)設置法院管制。

13.一地的區域發展受到自然與人文因素的影響甚大，臺灣區域發展的特色不包括下列何者？

- (A)高度都市化 (B)都市地區以第二、三級產業為主
(C)人口與產業活動分布均勻 (D)區域間發展不均衡。

14.解嚴後，臺灣社會運動蔚為風潮，1980年代以後原住民走上街頭高舉「正名」、「權益」等標語，此社會運動帶來了下列何種影響？

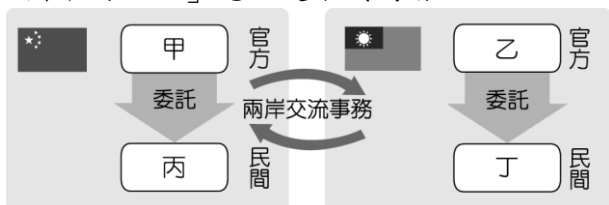
- (A)原住民各族彼此融合大團結
(B)原住民的權益取得法律保障
(C)原住民取回原本的山林地
(D)原住民被迫改回日本姓名。

15.附表為歷史課堂上同學們所整理的日本統治臺灣分期。請問：哪一列的內容有誤？

項目	前期	中期	後期
(甲)時間	1895~1919年	1919~1937年	1937~1945年
(乙)總督	文官	武官	武官
(丙)政策	殖民地特殊統治	內地延長主義	皇民化運動
(丁)背景	殖民初期	民族自決	1937年中日戰爭

- (A)甲 (B)乙 (C)丙 (D)丁。

16.附圖是兩岸交流事務處理機構的示意圖，根據圖中的內容判斷，圖中的「丁」應該是下列何者？



- (A)國務院臺灣事務辦公室 (B)海峽兩岸關係協會
(C)海峽交流基金會 (D)行政院大陸委員會。

17.從1948年開始，一直到1975年為止，蔣中正一共做了5任的總統。蔣中正可以連選連任這麼多次，其法源基礎為何？

- (A)《中華民國憲法》 (B)《地方自治條例》
(C)《戒嚴令》 (D)《動員戡亂時期臨時條款》。

18.某位英國商人在1915年來到臺灣經商，他可能會經歷下列哪一種體驗？ (A)可參觀完工的日月潭水力發電所

(B)從臺北乘坐火車到臺南，前往製糖會社參觀

(C)可任意開發無主山林地

(D)直接向農民購買甘蔗，自行製糖。

19.二二八事件使臺灣的族群裂痕加深，造成許多無可挽回的傷害，使大家體會到族群和樂相處的重要性。下列何者是二二八事件發生的背景？

(A)臺灣通貨膨脹，物價飛漲 (B)行政長官權力太小，無法維護臺灣治安

(C)政府實施自由經濟政策，造成貧富差距加大

(D)「行政長官公署」的官員與首長大多由臺灣人士擔任

20.臺灣歷任總統在其任內均有所作為，下列何者總統與任內的作為配對錯誤？

(A)蔣中正→實施地方自治 (B)蔣經國→宣布解嚴

(C)馬英九→終止動員戡亂 (D)李登輝→首次政黨輪替

21.臺灣鐵路的歷史，至今已超過百年，下列關於臺灣鐵路的發展史，何者敘述正確？

(A)沈葆楨為促進東部和山區的發展，計畫興築鐵路

(B)邵友濂最先在臺修築鐵路，但因民眾以破壞風水為由將之拆除

(C)劉銘傳時，鐵路北通基隆南達高雄

(D)日本殖民統治時期，完成西部縱貫鐵路。

22.戒嚴時期，臺灣人民的自由受到很多限制。下列何者不在戒嚴時期限制的範圍內？

(A)集會遊行的自由 (B)信仰宗教的自由

(C)批評時政的自由 (D)成立政黨的自由。

23.日治時期，臺灣總督府之所以能夠建立堅實的統治基礎，與有效利用保甲組織有關。下列關於臺灣保甲組織的敘述，何者錯誤？

(A)以輔佐警察為主 (B)由日本國內引進

(C)保甲內若有人犯法，同保甲的民眾也要連帶受到處罰

(D)設有壯丁團組織。

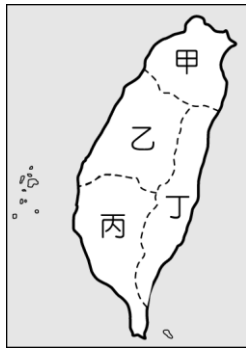
24.國民政府在1949年底遷臺之後，外交政策曾幾度改變，請按照先後順序排列，下列何者正確？

(甲)鞏固外交；(乙)彈性外交；(丙)務實外交

(A)甲乙丙 (B)乙丙甲 (C)甲丙乙 (D)丙乙甲。

25.2015年臺灣登革熱疫情嚴重，病例破萬，中央政府成立疫情指揮中心，全面防堵疫情的擴散。附表為截至2015年9月24日的登革熱病例的分布統計圖，根據表中資訊判斷，要特別加強防疫工作的區域位於附圖中哪一區域？

縣市	病例數	縣市	病例數	縣市	病例數
臺南市	13,960	嘉義縣	13	宜蘭縣	3
高雄市	1,858	新竹縣	12	花蓮縣	3
屏東縣	61	新竹市	9	南投縣	3
新北市	33	嘉義市	9	基隆市	2
臺中市	32	彰化縣	7	金門縣	2
臺北市	29	雲林縣	6	苗栗縣	2
桃園市	25	澎湖縣	4	臺東縣	1



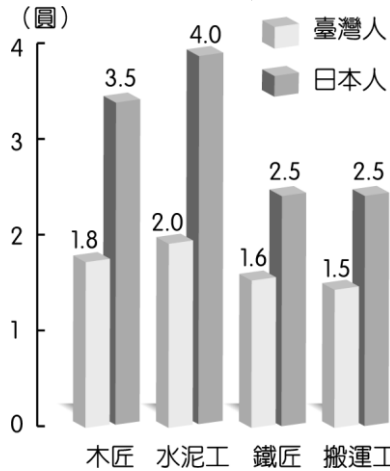
(A)甲 (B)乙 (C)丙 (D)丁。

26.附圖中的期刊是臺灣在 1950 年代檯面上可以聽到異議聲響的出版品，內容刊登的文章主要為檢討臺灣內部問題，及批評國民黨政府政策弊病，因而引發當局不滿。請問：上述最後導致主辦雜誌的何人遭逮捕？



(A)雷震 (B)陳儀 (C)林獻堂 (D)蔣渭水。

27.附圖是 1927 年上半年臺北市臺、日人每天工資比較表，從表中的數據看來，可知下列何事？



(A)工業日本，農業臺灣 (B)工業臺灣，農業南洋
(C)臺灣人在就業上受到不平等待遇
(D)臺灣人在就業上多以勞工階級為主。

二、題組(28-37 題，每題 2 分；其餘每題 1 分)

(一)有一份聯合國的決議案裡提到：「大會回顧《聯合國憲章》的原則，考慮到恢復中華人民共和國的合法權利，……承認中華人民共和國政府的代表是中國在聯合國組織的唯一合法代表，……決定恢復中華人民共和國的一切權利，承認它的政府代表為中國在聯合國組織的唯一合法代表。」請問：

- 28.這份決議案是在何時提出的？
 (A)1978 年 (B)1971 年 (C)1958 年 (D)1949 年。
 29.此一決議文通過後，使我國外交政策出現什麼樣的轉變？
 (A)依賴美國程度加深 (B)加強封鎖中國大陸
 (C)改採彈性外交政策，重視發展實質關係
 (D)斷絕所有與友邦的外交關係。
 30.這份決議文對我國的衝擊為何？
 (A)通貨膨脹嚴重 (B)族群關係緊張
 (C)國際外交孤立 (D)經濟轉型困難。

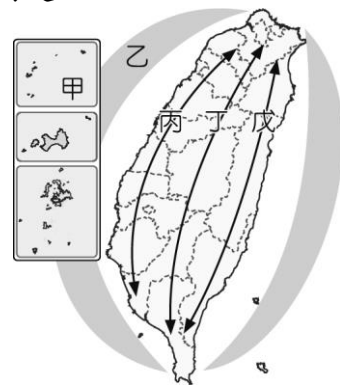
(二)巴萬記得小時候山上來了一群衣著奇怪的人，他們被部落長老喝斥一頓以後無奈地離開，之後下山的道路就被鐵絲網封住。又過了好多年，那群人又來了，這次伴隨武器，不服從者被暴力對待不得不屈服，服從的部落則獲得醫藥資源、學校等，但最讓族人憤慨的是，這群人入侵獵場，肆意砍伐森林，又逼迫族人做苦力，導致大家心生不滿，後來聽說隔壁部落的頭目莫那魯道率領六部族人一起叛變，最後在山林裡壯烈犧牲，事情愈演愈烈，還鬧上國際新聞，使日本政府受到輿論譴責。請問：

- 31.上文中衣著奇怪的人，應該是下列何者？
 (A)臺灣總督府代表 (B)居住在平地的漢人平民
 (C)清政府代表 (D)居住在附近不同族的原住民。
 32.上文中畫線部分的轉變是因為政府開始推動何種政策？
 (A)民族自決 (B)日臺合一
 (C)開山撫番 (D)理蕃政策。
 33.上文中所敘述的「莫那魯道率領六部族人一起叛變，最後在山林裡壯烈犧牲」，指的是什麼事件？
 (A)玉井事件 (B)牡丹社事件
 (C)霧社事件 (D)郭懷一事件
 34.此事件爆發之後，造成何種影響？
 (A)日軍犯臺 (B)政府重新檢討統治原住民政策
 (C)日本開始統治臺灣 (D)原住民展開政治社會運動。

(三)臺灣未來的國土空間規畫主要依據各地不同的條件來設計，期望可以為未來國家發展奠定基礎，其相關計畫如附表所示。請問：

區域	定位
A	強調都市與創新產業發展
B	以生態環境資源保育為重心
C	以適性發展優質生活產業
D	強調海岸及海洋之自然珍貴資產
E	強調人文及自然環境保全與觀光發展

35.各地區的發展條件不同，政府擺脫了過去一致性的思考模式，期望能找到各區域的特色，設計出因地制宜的相關策略。附表中「以生態環境資源保育為重心」定位的 B 區域應位於附圖中何處？



- (A)甲 (B)乙 (C)丙 (D)丁。
 36.若依各縣市所在位置的特性判斷，下列哪一縣市的發展方向屬於附表中 C 區域的定位目標？
 (A)臺北市 (B)南投縣
 (C)台東縣 (D)台南市。
 37.根據區域條件的不同，使得發展重點有別。若要朝「以創意、創新作為城鄉轉型與發展的核心價值」目標前進，表中哪一區域所進行的相關計畫會最多？
 (A)A 區域 (

B) C 區域 (C) D 區域 (D) E 區域。

(四) 以下是三個不同時代的臺灣人對於中國大陸的經歷與感想，請依此回答下列問題：

阿華	現在兩岸的交流愈來愈方便了，上個月我和家人一起從金門利用「小三通」至廈門觀光，再搭高速鐵路至福州看博覽會，最後從馬祖回到臺灣。
利民	中國大陸？我從父親的回憶知道大概的樣貌，但可惜政局讓我們無法實際前往，我父親最大的願望就是能回中國大陸老家看一看。
德欽	我家在金門，一周前炮彈像下雨一樣從天而降，房子都被打爛了，幸好家人都平安。聽指揮部說，這是共匪的一次突擊行動，目的要解放臺灣。

38. 利民父親最大的願望在何時可實現？

(A) 1961 年 (B) 1971 年 (C) 1981 年 (D) 1987 年

39. 德欽提到的炮彈攻擊最有可能是指哪一戰役？

(A) 國共內戰 (B) 八二三炮戰 (C) 韓戰 (D) 越戰。

(五) 均均參加南投公益小旅行，參觀位於南投水里的大觀發電廠，發現大觀發電廠的前身為日月潭發電所，最早興建於日治時期，整個工程將濁水溪與日月潭連貫起來，形成一個完整的水利供電系統。請問：

40. 當時日本興建日月潭發電所，是由於哪一政策的實施？

(A) 土地與林野調查 (B) 日臺合一
(C) 農業臺灣，工業日本 (D) 工業臺灣，農業南洋。

41. 當時日月潭發電所完工後，對臺灣最大的幫助為何？

(A) 臺灣成為日本重要糧食生產基地
(B) 臺灣總督府可以將埔里盆地變成重要蔗糖產區
(C) 臺灣得以發展機械、造船、石化等工業
(D) 臺灣成為東南亞地區的重要農業補給基地。

(六) 陳澄波是臺灣在日治時期培養出來的第一代西洋畫家，是第十位以油畫作品入選日本「帝國美術展覽會」的臺灣人。二二八事件爆發時，陳澄波正擔任嘉義市參議員，他和嘉義地方士紳成立組織，並與成員出面調停，嘗試和軍隊溝通，不料卻被拘押，在嘉義火車站前公開槍決。請問：

42. 二二八事件爆發當下，統治臺灣的最高職位為何？

(A) 臺灣巡撫 (B) 臺灣總督
(C) 行政長官 (D) 臺灣省省長。

43. 二二八事件發生時，陳澄波和地方人士成立的調停組織為何？

(A) 臺灣民眾黨 (B) 臺灣文化協會
(C) 臺灣地方自治聯盟 (D) 二二八事件處理委員會。

(七) 日治時期，總督府曾經在臺灣實行過很多的農業改革措施，而使得農產量大增，進而帶動各項產業的發展。請問：

44. 日治時期的嘉南大圳，灌溉面積達 15 萬公頃，是由何人所設計建造的？

(A) 後藤新平 (B) 兒玉源太郎
(C) 八田與一 (D) 磯永吉。

45. 1922 年，哪一種稻米培育成功，為臺灣的農業生產帶來新的進步？

(A) 香米 (B) 在來米 (C) 越光米 (D) 蓬萊米。

46. 日治後期，臺灣稻米產量大增，大多輸往哪個國家或地區？ (A) 日本 (B) 中國 (C) 美國 (D) 東南亞。

(八) 1970 年代，臺灣的經濟、教育已迅速發展，人民對於政府的要求提高，「黨外」的反對勢力也因此崛起。請問：

47. 所謂的「黨外」是指下列何者？

(A) 非國民黨籍的人士 (B) 在臺灣的共產黨分子
(C) 國民黨位階較低的官員 (D) 國民黨內的高級官員。

48. 當時「黨外」人士對政府的訴求為何？

(A) 要求民主 (B) 要求保障弱勢團體
(C) 追求受教育的權利 (D) 要求經濟改革開放。

49. 1979 年，國民黨政府在高雄對黨外進行大鎮壓，當時的主要領導者都被以叛亂罪起訴而交付軍事法庭審判。這起事件稱為什麼？

(A) 二二八事件 (B) 美麗島事件
(C) 雷震事件 (D) 野百合學運。

(九) 在日本治臺時期，推行新觀念、新制度，使得社會有顯著的變遷，無形中也讓臺灣逐步走向現代化。請問：

50. 下列事項中哪些是日治時期臺灣人口增加的因素？

(甲) 有效地防治熱帶傳染病；(乙) 公共衛生的加強；(丙) 政府鼓勵生育；(丁) 警察與壯丁團有效打擊犯罪
(A) 甲丙 (B) 甲丁 (C) 乙丁 (D) 甲乙。

51. 日治時期，總督府為要求遵守作息規律，引進哪些制度？(甲) 星期制；(乙) 彈性制；(丙) 現代法律制度；(丁) 標準時間制度

(A) 甲乙 (B) 甲丁 (C) 乙丙 (D) 乙丁。

(十) 在一份交呈臺灣總督府的報告書裡提到：「大正 14 年（西元 1925 年）可以說是臺灣文化協會舉辦演講會的狂熱時代，地方會員凡有機會便邀請幹部去開演講會。……幹部徒以挑撥民族的反抗心為能事，釀成普遍的反母國風氣。尤其是每次介入地方問題或農民爭議，……則展開執拗的講演與示威運動，以示反抗。這運動實開本島農民運動與勞工運動的先河。」請問：

52. 文中所提的情形，可說是受到當時國際間哪一思潮的刺激？

(A) 啟蒙運動 (B) 工業革命
(C) 民族自決 (D) 帝國主義。

53. 下列哪一位應是推動此一社會運動的代表人物？

(A) 丘逢甲 (B) 蔣渭水 (C) 余清芳 (D) 莫那魯道。

54. 以當時臺灣文化協會所做的事來看，其主要目的為何？

(A) 開發經濟 (B) 爭取獨立
(C) 開山撫番 (D) 啟迪民智。

(十一)日治初期，臺人反抗事件層出不窮與財政入不敷出需要日本本國大力援助，導致日本政府飽受國際社會嘲笑認為不具備治理殖民地的能力。甚至當時日本瀰漫著《臺灣賣卻論》的思維（將臺灣以一億日圓賣給法國），最後在當時民政長官積極推動基礎建設與財政改革下，臺灣脫離入不敷出的窘境。請問：

55.上文中的民政長官是誰？

(A)唐景崧 (B)後藤新平 (C)八田與一 (D)磯永吉

56.當時日本對臺推動的基礎建設不包括下列何者？

(A)普遍設立郵便局 (B)實施土地與林野調查
(C)成立臺灣銀行 (D)推動國民義務教育。

(十二)七十餘年來，兩岸的關係已由武力對抗轉變為兩岸交流。請問：

57.兩岸處於武力對抗時期的時候，國軍常會製作空飄汽球，施放至中國大陸宣傳。請問：汽球上的標語最可能是下列何者？

(A)光復大陸 (B)一國兩制
(C)三通四流 (D)三不政策。

58.兩岸處於政治對峙時期的時候，中共對我國採取一些策略，其中下列何者為非？

(A)三通四流 (B)一國兩制
(C)和平統戰 (D)三不政策。

(十三)有一份 19 世紀末的公告上寫道：「吾臺民，誓不服倭，與其事敵，寧願死亡。爰經會議決定，臺灣全島自立，改建民國，官吏皆由民選，一切政務從公處置。……巡撫兼署臺灣防務唐景崧，為人民所敬仰，故由會議公推為民主國總統。……凡我同胞，無論士農工商，務須於是日拂齊籌防局，隆重行禮。幸勿遲誤。」請問：

59.依文中所言，當時的臺灣剛脫離哪一政權的統治？

(A)荷蘭 (B)鄭氏 (C)清帝國 (D)日本。

60.哪一史事的發生，使當時的臺灣人誓言「與其事敵，寧願死亡」？

(A)1937 年中日戰爭 (B)臺澎割日
(C)霧社事件 (D)西來庵事件。

61.當時臺灣人民所成立的民主國，以下列何者為國家象徵？

(A)青天白日旗 (B)太陽旗
(C)五星旗 (D)藍地黃虎旗。

(十四)臺灣各縣市受到發展歷史及區域條件等因素影響，產業發展程度不同，造成民眾收入的差異。附圖為 106 年部分縣市平均每戶可支配所得，請由圖中資料回答下列問題：



62.請依圖中內容判斷，下列敘述何者最為正確？

(A)西部縣市人口較多 (B)直轄市經濟較發達
(C)離島工商業較為興盛 (D)東部第二級產業發達。

63.由於圖中各縣市的家戶收入高低不同，請由各地的發展特色判斷，應該和下列何者影響最大？

(A)礦產資源 (B)產業活動
(C)氣候條件 (D)人口密度。